


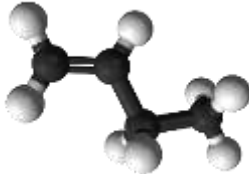
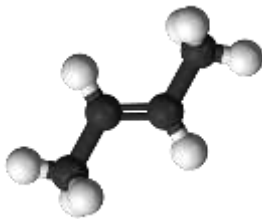

## ΜΟΡΙΑΚΟΙ ΤΥΠΟΙ ΥΔΡΟΓΟΝΑΝΘΡΑΚΩΝ

### Φύλλο εργασίας

**Ονοματεπώνυμο:**.....

Μεταβείτε στην εφαρμογή <http://photodentro.edu.gr/v/item/ds/8521/10498> και προσπαθήστε να αντιστοιχίσετε κάθε μοριακό τύπο (Μ.Τ) και γενικό μοριακό τύπο (Γ.Μ.Τ) με το σωστό μοριακό μοντέλο. Εκτελέστε την άσκηση μέχρι να ολοκληρωθεί επιτυχώς.

Συμπληρώστε τον παρακάτω πίνακα:

Στερεοχημικός Τύπος	Συντακτικός Τύπος	Μοριακός Τύπος	Γενικός Μοριακός Τύπος	Ομόλογη σειρά
	$\text{CH}_4$			<b>Αλκάνια</b>
	$\text{CH}_2=\text{CHCH}_2\text{CH}_3$			
	$\text{CH}_3\text{CH}=\text{CHCH}_3$			
	$\text{CH}\equiv\text{CH}$			

Τι παρατηρείτε για τις περιπτώσεις 2 και 3;

.....

.....

.....

.....